



# Conteo de números hasta el 1 000

1. Observa la tabla de 100, sigue las instrucciones y luego responde.

1	2	3	4	5	6	7	8	9	10
11	12	13	14	15	16	17	18	19	20
21	22	23	24	25	26	27	28	29	30
31	32	33	34	35	36	37	38	39	40
41	42	43	44	45	46	47	48	49	50
51	52	53	54	55	56	57	58	59	60
61	62	63	64	65	66	67	68	69	70
71	72	73	74	75	76	77	78	79	80
81	82	83	84	85	86	87	88	89	90
91	92	93	94	95	96	97	98	99	100

- Pinta de  los números de un conteo de 2 en 2 partiendo del 2.
- Encierra de  los números de un conteo de 5 en 5 partiendo del 5.
- ¿Cuáles son los números que tienen en común estos dos conteos?

---

2. Escribe los cuatro números que siguen en cada conteo.

- De 3 en 3 y hacia adelante.

36

- De 4 en 4 y hacia atrás.

50

- De 10 en 10 y hacia adelante.

75

3. Escribe de cuánto en cuánto es el conteo en cada caso.

- a. 203, 303, 403, 503, 603. ▶ Conteo de  en .
- b. 141, 151, 161, 171, 181. ▶ Conteo de  en .
- c. 458, 449, 440, 431, 422. ▶ Conteo de  en .

4. Completa cada conteo.

- a. 124, 129, 134, , , .
- b. 333, , 533, , 733, .
- c. , 654, 644, , 624, .
- d. 423, , , 420, 419 .

5. Camilo contó de 3 en 3, hacia adelante y partiendo de 124. Obtuvo los siguientes resultados:

124, 127, 130, 133, 136, 140.

- a. ¿Cuál de los números **no** corresponde a la secuencia?, ¿por qué?

---

- b. ¿Por cuál número lo cambiarías?

---

6. Andrea contó de 4 en 4, hacia atrás y partiendo de 520. Obtuvo los siguientes resultados:

520, 516, 514, 512, 508, 504, 500.

¿Cuál es el error que cometió Andrea al contar? Corrígelo.

---

Corrección ▶

7. Completa los siguientes conteos y luego escribe el patrón indicado.

- a. De 5 en 5 y hacia adelante.



Patrón de las cifras de las unidades ► \_\_\_\_\_

- b. De 100 en 100 y hacia atrás.



Patrón de las cifras de las centenas ► \_\_\_\_\_

- c. De 10 en 10 y hacia adelante.



Patrón de las cifras de las decenas ► \_\_\_\_\_


8. Escribe **V** si la afirmación es verdadera o **F**, si es falsa.

- a. ☐ Si cuentas de 5 en 5 hacia adelante, el número que sigue a 346 es 340.

- b. ☐ Si cuentas de 100 en 100 hacia adelante, el número que sigue a 890 es 909.

- c. ☐ Si al contar dices 245 y luego 255, es porque contaste de 10 en 10.

9. Cuenta la cantidad de servilletas que hay y luego completa.



En total hay  servilletas.