

INSTRUCCIONES DE TRABAJO

PROFESORA	Constanza Pérez Pérez.
ASIGNATURA	Matemática.
NIVEL	2° Básico
NOMBRE DEL TEXTO A TRABAJAR	Texto del Estudiante tomo I 2° Básico.
FECHA	1ª semana ciclo de aprendizaje (lunes 23 a viernes 27 de noviembre).
OBJETIVO PRIORIZADO	
OBJETIVO ESPECÍFICO DEL CICLO	► Resolver actividades relacionadas con las habilidades trabajadas durante el año.

INSTRUCCIONES

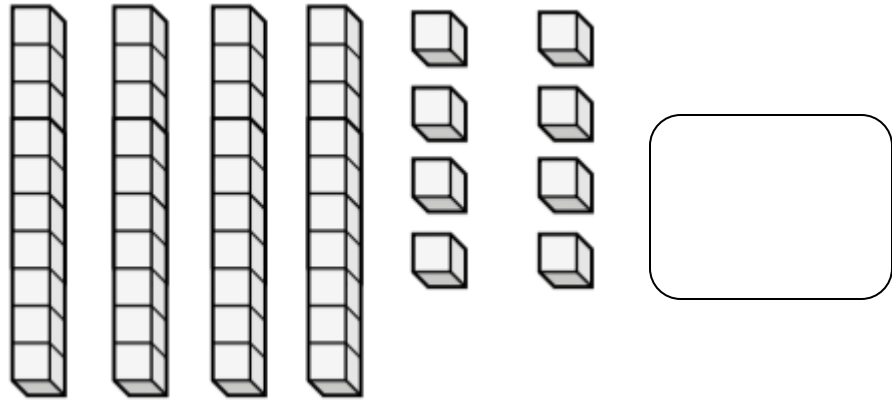
- ❖ Leer ficha con instrucciones de trabajo.
- ❖ Ver video profesora.
- ❖ Realizar las actividades de esta ficha.
 - Instrucciones: la siguiente ficha de trabajo la deben copiar y responder en el cuaderno de matemática. En caso que tengan acceso a imprimir la ficha, lo pueden hacer; una vez realizada la ficha la doblan y pegan en el cuaderno.

MATERIAL DE APOYO

- Video profesora.

FICHA DE TRABAJO

1) Cuenta los objetos de la representación y escribe el total:



2) Observa los siguientes números. Encierra el **número mayor con lápiz rojo** y el número menor con lápiz azul:

66

83

38

86

68

88

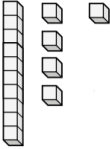
3) Observa las comparaciones y escribe los signos $>$, $<$ o $=$

45 54

90 99

30 33

4) Dibuja la cantidad de objetos que indica el número. Guíate por el ejemplo:

15	
26	
40	
73	

5) Escribe el nombre de cada número (con letra manuscrita):

a) 30: _____

b) 45: _____

c) 89: _____

6) Resuelve las siguientes adiciones (suma):

$$56 + 2 = \square$$

$$56 + 3 = \square$$

$$53 + 5 = \square$$

7) Resuelve las siguientes sustracciones (restas):

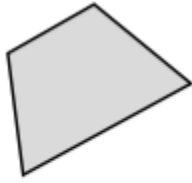
$$70 - 10 = \square$$

$$67 - 7 = \square$$

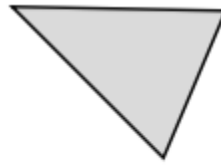
$$89 - 4 = \square$$

8) ¿Cuál es la figura geométrica que tiene 4 lados iguales y 4 vértices o puntas iguales?: _____.

9) ¿Cuántos lados tienen las siguientes figuras?



lados



lados

10) Completa la siguiente frase:

“1 metro corresponde a _____ centímetros.”

11) Escribe con qué unidad de medida (centímetro o metro) podemos medir las siguientes cosas o lugares:

a) Largo de la cancha: _____

b) Largo del cuaderno: _____

12) Resuelve los siguientes problemas usando la estrategia MORA:

a) Tengo 34 lápices en mi casa y 23 en el colegio. ¿Cuántos lápices tengo en total?

b) Hay 79 alumnos en segundo básico en el colegio de Matilde. 39 de ellos son niñas. ¿Cuántos niños hay?