

**PAR 2**

# **Semana 5 al 9 de abril**

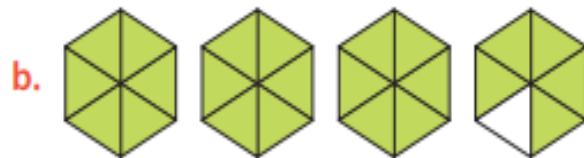
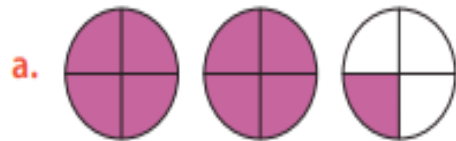
Expresar fracciones impropias como números mixtos y números mixtos como fracciones impropias

# Práctica individual

## Practico

Resuelve en tu cuaderno las siguientes actividades de los contenidos y procedimientos que has estudiado.

1. Escribe como fracción impropia y como número mixto cada una de las siguientes representaciones.



2. Representa gráficamente cada fracción impropia o número mixto. Luego, escribe el número mixto o fracción, según corresponda.

a.  $4\frac{3}{8}$

b.  $\frac{15}{7}$


c.  $5\frac{11}{16}$

d.  $\frac{20}{17}$


Representa gráficamente cada fracción impropia. Luego escríbela como un número mixto.

a.  $\frac{14}{5}$

Representación




Número mixto



b.  $\frac{8}{3}$

Representación



Número mixto



